


<p>Tanítók Fekete István Egyesülete</p>  <p>2024/25. tanév</p>	MATEMATIKA		
	Feladási határidő: 2025. január 17. (péntek)		Postai cím: Harmatcsepp 8500 Pápa, Pf. 57.
	Forduló: III.	Évfolyam: 2.	Az iskola kódja: H-
	A versenyző neve:		
	Elérhető pontszám: 30	Elért pontszám:	Javította:

Kedves Versenyző! Köszöntelek!

FONTOS információ, olvasd el figyelmesen!

A feladatokat egymás után írom le, te pedig tetszőleges sorrendben oldhatod meg a négyzetrácsos lapon. Ne felejtse el a megoldások elé a feladat sorszámát odairni! (A feladat szövegét nem kell oda leírnod!) Ha másképp kérem, a feladat szövegénél mindig jelzem neked.

Munkád során ügyelj a következőkre:

- Minden lépést írd le, mert mindegyik pontot ér!
- A feladatok megoldása áttekinthető legyen!

A szöveges példák megoldásakor:

- Az adatokat pontosan jegyezd le! (Ha segít, készíthetsz rajzot is!)
- Készíts megoldási tervet!
- Lépésenként levezetve oldd meg a feladatot!
- Mindig ellenőrizd számolásodat!
- Külön sorban, és egész mondattal válaszolj a feltett kérdésre!
- Indokolhatsz akkor is, ha külön nem kérem!

Kérlek, hogy a feladatokat egyedül próbáld megoldani, a versenylapot te töltsd ki!

A határidőket pontosan tartsd be, hiszen a későn feladott feladatlapokat nem tudom értékelni!

Sikeress versenyézést kívánok!

1. A horgász fogott 7 sügért és 5 kárászt. 8 halból halászlévet készített.

Mit tudsz meg, ha kiszámítjuk a következő kifejezéseket? **Itt dolgozz!** 6/

$7 + 5$ Megtudom, hogy _____

$7 - 5$ Megtudom, hogy _____

$7 + 5 - 8$ Megtudom, hogy _____

2. Írd be a következő számokat a keretekbe! A nyíl a nagyobb számra mutasson! 7/

A négyzetrácsos lapon dolgozz, ide egy lehetséges jó megoldást írd be!

$3 + 6$

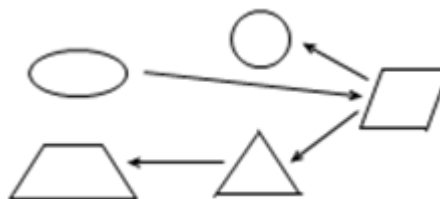
65

$70 - 3$

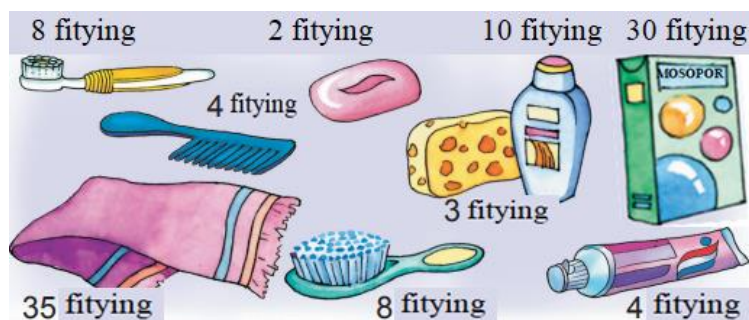
$13 + 16$

$70 - 2$

Hány megoldást találtál?



3. A mesebeli kis manónak 58 fityingje van. Vásárolni szeretne a Meseboltban. Mit tud megvenni az alábbi dolgok közül? Jelöld + jellel a táblázatban! A pénzt el szeretné költeni. Legalább 5 féle megoldást írd! **Itt dolgozz!** 10/



	--						
	--						
	--						
	--						
	--						
	+						
	+						
	--						
	+						
Ennyit fizet	68 fitying	_____ fitying	_____ fitying	_____ fitying	_____ fitying	_____ fitying	_____ fitying
Ennyi pénze marad	0 fitying	_____ fitying	_____ fitying	_____ fitying	_____ fitying	_____ fitying	_____ fitying

Mindent megvehet-e? _____

4. Misi és Jani kitalálós játékot játszanak. Vajon melyik logikai lapra gondoltak? 4/

Jani kérdései:	Misi válaszai:
Sárga ?	Nem.
Piros ?	Nem.
Zöld ?	Nem.
nagy ?	Nem.
?	Igen.
?	Nem.
Rajzold le!	

Misi kérdései:	Jani válaszai:
Kicsi ?	Nem.
Piros? ?	Nem.
Sárga? ?	Igen.
?	Nem.
?	Igen.
?	Nem.
Rajzold le!	

5. Az állatkert 10 éve gondoz egy nagy teknőst, amely ma 48 éves. Hány éve él ebben az állatkertben? Hány év múlva lesz 100 esztendő? **A négyzetrácsos lapon dolgozz!** 3/

